

# ಪೂರ್ವ ಉಚ್ಚ ಪ್ರಾಥಮಿಕ ಶಿಷ್ಯವೃತ್ತಿ ಪರೀಕ್ಷೆ (5 ನೇ ಇಯತ್ರೆ ), ಜುಲೈ 2022

ಆಸನ ಕ್ರಮಾಂಕ -

--	--	--	--	--	--	--	--	--	--	--	--	--	--	--	--	--	--	--	--	--

ಸಂಚ -



**0 8 0 1**

ಪೇಪರ್ ಕ್ರ - I

ಸಮಯ : 11:00 ರಿಂದ 12:30

ಒಟ್ಟು ಗುಣಗಳು : 150

**ಮಾಧ್ಯಮ - ಕನ್ನಡ**  
**ಪ್ರಥಮ ಭಾಷೆ ಮತ್ತು ಗಣಿತ**



ಪುಟಗಳು : 32

**ಪ್ರಶ್ನೆ ಪತ್ರಿಕೆ ಬಿಡಿಸುವುದಕ್ಕಿಂತ ಮುಂಚೆ ಕೆಳಗಿನ ಸೂಚನೆಗಳು ಎಚ್ಚರಿಕೆಯಿಂದ ಓದಿರಿ.**

- (1) ಈ ಪ್ರಶ್ನೆ ಪತ್ರಿಕೆಯಲ್ಲಿ ಎರಡು ವಿಭಾಗಗಳಿವೆ. ವಿಭಾಗ I ರಲ್ಲಿ ಪ್ರಥಮ ಭಾಷೆಯ 1 ರಿಂದ 25 ಪ್ರಶ್ನೆಗಳಿವೆ ಮತ್ತು ವಿಭಾಗ II ರಲ್ಲಿ ಗಣಿತದ 26 ರಿಂದ 75 ಪ್ರಶ್ನೆಗಳಿವೆ. ಹೀಗೆ 75 ಪ್ರಶ್ನೆಗಳು ಇದ್ದು ಎಲ್ಲ ಪ್ರಶ್ನೆಗಳು ಬಿಡಿಸುವುದು ಅವಶ್ಯಕವಾಗಿದೆ.
- (2) ಪ್ರತಿಯೊಂದು ಪ್ರಶ್ನೆಗೆ 2 ಗುಣಗಳಿವೆ.
- (3) ಪ್ರಶ್ನೆ ಪತ್ರಿಕೆ ಬಿಡಿಸಲು ಒಟ್ಟು 90 ನಿಮಿಷಗಳ ಕಾಲಾವಧಿ ಕೊಡಲಾಗಿದೆ.
- (4) ಉತ್ತರಗಳನ್ನು ನೊಂದಾಯಿಸುವ ಸಲುವಾಗಿ ಸ್ವತಂತ್ರ ಉತ್ತರ ಪತ್ರಿಕೆ ಕೊಡಲಾಗಿದೆ. ಪ್ರತಿಯೊಂದು ಪ್ರಶ್ನೆ ಕ್ರಮಾಂಕದ ಮುಂದೆ ನಾಲ್ಕು ಪರ್ಯಾಯವಿರುವ ವರ್ತುಗಳನ್ನು ಕೊಡಲಾಗಿದೆ. ಅದರಲ್ಲಿ ಯೋಗ್ಯ ಉತ್ತರವಿರುವ ಪರ್ಯಾಯ ಕ್ರಮಾಂಕದ ವರ್ತುಗಳನ್ನು ಉದಾಹರಣೆಯಲ್ಲಿ ತೋರಿಸಿದಂತೆ ನೊಂದಾಯಿಸಿರಿ. ಉದಾ - ಪ್ರಶ್ನೆ ಕ್ರಮಾಂಕ 6ರ ಉತ್ತರ 2 ಆದರೆ ಕೆಳಗೆ ತೋರಿಸಿದಂತೆ ವೃತ್ತವನ್ನು ಪೂರ್ಣವಾಗಿ ತುಂಬಿರಿ.  
ಉದಾ. ಪ್ರಶ್ನೆ ಕ್ರ. 6 - ① ● ③ ④
- (5) ಕೆಳಗಿನಂತೆ ನೊಂದಾಯಿಸಿದ ಉತ್ತರಗಳ ಬಗ್ಗೆ ವಿಚಾರ ಮಾಡಲಾಗುವುದಿಲ್ಲ.  
ⓧ ② ● ⊗
- (6) ಒಂದು ಪ್ರಶ್ನೆಗೆ ಒಂದಕ್ಕಿಂತ ಹೆಚ್ಚು ವರ್ತುಗಳಲ್ಲಿ ನೊಂದಾಯಿಸಿದ ಉತ್ತರಗಳು, ತಿದ್ದುಪಡಿ ಮಾಡಿ ನೊಂದಾಯಿಸಿದ ಉತ್ತರಗಳು ಗಮನಕ್ಕೆ ತೆಗೆದುಕೊಳ್ಳಲಾಗುವುದಿಲ್ಲ.
- (7) ಒಮ್ಮೆ ನೊಂದಾಯಿಸಿದ ಉತ್ತರ ಬದಲಾಯಿಸಲು ಬರುವುದಿಲ್ಲ.
- (8) ಪರ್ಯಾಯದ ಉತ್ತರ ಕ್ರಮಾಂಕಗಳನ್ನು ಕಪ್ಪು ಅಥವಾ ನೀಲಿ ಬಾಲ್ ಪೆನ್ನಿನಿಂದ ನೊಂದಾಯಿಸಬೇಕು. ಪೆನ್ನಿನಿಂದ ನೊಂದಾಯಿಸಿದ ಉತ್ತರಗಳ ಬಗ್ಗೆ ವಿಚಾರ ಮಾಡಲಾಗುವುದಿಲ್ಲ.
- (9) ಪ್ರಶ್ನೆ ಪತ್ರಿಕೆಯ ಪ್ರತಿಯೊಂದು ಪುಟದ ಕೆಳಗೆ ಮತ್ತು ಕೊನೆಯ ಪುಟದ ಮೇಲೆ ಕಚ್ಚಾ ಕೆಲಸಕ್ಕಾಗಿ ಖಾಲಿ ಸ್ಥಳವನ್ನು ಬಿಡಲಾಗಿದೆ ಅಲ್ಲಿಯೇ ಕಚ್ಚಾ ಕಾರ್ಯ ಮಾಡಬೇಕು.
- (10) ಪರೀಕ್ಷೆಗೆ ಮರ್ಯಾದಿತ ವೇಳೆ ಇರುವುದರಿಂದ ಒಂದು ಪ್ರಶ್ನೆಯ ಉತ್ತರ ನಿಮಗೆ ಬರದಿದ್ದರೆ, ಮುಂದಿನ ಪ್ರಶ್ನೆ ಬಿಡಿಸಿರಿ. ಕೊನೆಗೆ ವೇಳೆ ಇದ್ದರೆ ಉಳಿದ ಪ್ರಶ್ನೆಗಳ ಬಗ್ಗೆ ಪುನಃ ಪ್ರಯತ್ನ ಮಾಡಿರಿ.
- (11) ಯಾವುದೇ ಪ್ರಶ್ನೆಯಲ್ಲಿ ತಪ್ಪು/ ದೋಷಗಳಿದ್ದರೆ ಅದರ ಬಗ್ಗೆ ಪರ್ಯಾಯವೇ ಕ್ಷಮೆ ಅಥವಾ ಪರೀಕ್ಷೆ ಕೇಂದ್ರ ಸಂಚಾಲಕರ ಕಡೆ ವಿಚಾರಣೆ ಮಾಡಬಾರದು.
- (12) ಪ್ರಶ್ನೆಯಲ್ಲಿಯ ಯಾವುದೇ ದೋಷ/ತಪ್ಪು/ ಆಕ್ಷೇಪಣೆ ಬಗ್ಗೆ ನಿಮ್ಮಲ್ಲಿ ಖಿತ ನಿವೇದನೆಯನ್ನು ಶಾಲೆಯವರು ಅಥವಾ ಪಾಲಕರು ಗಟಿಶಿಕ್ಷಣಾಧಿಕಾರಿ ಅಥವಾ ಶಿಕ್ಷಣಾಧಿಕಾರಿಯವರಿಗೆ ಕಳುಹಿಸಬಾರದು. ಆಯಾ ಶಾಲೆಯ ಲಾಗಿನ್ ನಿಂದ ಆನ್‌ಲೈನ್ ನೊಂದಾಯಿಸಬೇಕು.
- (13) MSCE ವೆಬ್‌ಸೈಟ್‌ನಲ್ಲಿ ಮಧ್ಯಂತರ ಉತ್ತರ ಸೂಚಿ ಪ್ರಕಟಿಸಿದ 10 ದಿನಗಳಲ್ಲಿ ದೋಷ/ತಪ್ಪು/ಆಕ್ಷೇಪಣೆ/ಸಮಸ್ಯೆಗಳನ್ನು ಆನ್‌ಲೈನ್‌ನಲ್ಲಿ ನೊಂದಾಯಿಸಬೇಕು.
- (14) ಮುದ್ರಣ ದೋಷ ಅಥವಾ ಅನ್ಯ ಕಾರಣಗಳಿಂದ ಪ್ರಶ್ನೆ ತಪ್ಪು ಎಂದು ಕಂಡು ಬಂದರೆ ತಜ್ಞ ಸಮಿತಿಯ ಅಭಿಪ್ರಾಯಕ್ಕೆ ಅನುಸಾರವಾಗಿ ಅದನ್ನು ರದ್ದು ಮಾಡಲಾಗುವುದು.
- (15) ಮೂಲ ಕನ್ನಡ ಮಾಧ್ಯಮದ ಜೊತೆಗೆ ಇಂಗ್ಲಿಷ್ ಭಾಷೆಯಲ್ಲಿ ಪ್ರಶ್ನೆ ಪತ್ರಿಕೆ ಕೊಡಲಾಗಿದೆ, ಮೂಲ ಕನ್ನಡ ಮಾಧ್ಯಮದಲ್ಲಿಯೆ ಸಂದಿಗ್ಧ ಪ್ರಶ್ನೆಯ ಬಗ್ಗೆ ಇಂಗ್ಲಿಷ್ ಪ್ರಶ್ನೆ ನೋಡಿರಿ.

## ವಿಭಾಗ - I

### ಪ್ರಥಮಭಾಷೆ

ಪ್ರಶ್ನೆ ಕ್ರಮಾಂಕ 01 ರಿಂದ 03 ರ ಸಲುವಾಗಿ ಸೂಚನೆ : -

ಕೆಳಗಿನ ಗದ್ಯಭಾಗವನ್ನು ಓದಿರಿ. ಅದರ ಕೆಳಗೆ ಕೇಳಲಾಗಿರುವ ಪ್ರಶ್ನೆಗಳ ಉತ್ತರಗಳನ್ನು ಪರ್ಯಾಯಗಳಿಂದ ಆರಿಸಿರಿ.

ಸುಡುಗಾಡುಸಿದ್ದರು ಇದು ಅಲೆಮಾರಿ ಪಂಗಡಕ್ಕೆ ಸೇರಿದ ಜನಾಂಗವಾಗಿದೆ. ಹೊಟ್ಟೆಯ ಪಾಡಿಗಾಗಿ ಒಂದೇ ಸ್ಥಳದಲ್ಲಿ ಸ್ಥಿರವಾಗಿ ನಿಲ್ಲದೆ ಸಂಚರಿಸುವರು. ಸುಡುಗಾಡಿನಲ್ಲಿದ್ದು ಕೆಲವು ವಿದ್ಯೆಗಳನ್ನು ಸಿದ್ಧಿ ಮಾಡಿಕೊಂಡಿರುವುದರಿಂದ ಅವರನ್ನು ಸುಡುಗಾಡುಸಿದ್ದರೆಂದು ಕರೆಯುವುದು ರೂಢಿಯಾಗಿದೆ. ಆಂಧ್ರದ ಮೂಲದವರೆಂದು ಹೇಳಿಕೊಳ್ಳುವ ಅವರು ಈಗ ಕರ್ನಾಟಕದ ಬೇರೆ ಬೇರೆ ಸ್ಥಳಗಳಲ್ಲಿ ವಾಸವಾಗಿದ್ದಾರೆ. ಮಹಾರಾಷ್ಟ್ರದ ಗಡಿಭಾಗದಲ್ಲಿಯೂ ಅವರು ಸಂಚರಿಸುವುದು ಕಂಡು ಬರುತ್ತದೆ. ಈ ಜನಾಂಗವು ಆಂಧ್ರ, ಕರ್ನಾಟಕ ಮತ್ತು ಮಹಾರಾಷ್ಟ್ರದ ಗಡಿಭಾಗದಲ್ಲಿ ಅಲ್ಲಲ್ಲಿ ವಾಸವಾಗಿದ್ದರೂ ಇವರ ಬದುಕು, ಜೀವನ ವಿಧಾನ, ಆಚರಣೆ, ಸಂಪ್ರದಾಯಗಳು ಒಂದೇ ಬಗೆಯಾಗಿವೆ. ಸಾಮಾನ್ಯವಾಗಿ ಊರ ಹೊರಗೆ ತಮ್ಮದೇ ಆದ ಜನಸಮುದಾಯದಲ್ಲಿ ವಾಸಿಸುತ್ತಾರೆ. ಇದರಿಂದಾಗಿಯೇ ಅವರಿಗೆ ತಮ್ಮದೇ ಆದ ಜೀವನ ಪದ್ಧತಿಯನ್ನು ಕಾಪಾಡಿಕೊಂಡು ಬರಲು ಸಾಧ್ಯವಾಗಿದೆ.

01. ಸುಡುಗಾಡುಸಿದ್ದರು ತಮ್ಮ ಮೂಲಸ್ಥಳ ಯಾವುದೆಂದು ಹೇಳಿಕೊಳ್ಳುವರು?

- |             |                 |
|-------------|-----------------|
| (1) ಕರ್ನಾಟಕ | (2) ಮಹಾರಾಷ್ಟ್ರ  |
| (3) ಆಂಧ್ರ   | (4) ಯಾವುದೂ ಅಲ್ಲ |

02. ಸುಡುಗಾಡುಸಿದ್ದರಿಗೆ ತಮ್ಮದೇ ಆದ ಜೀವನ ಪದ್ಧತಿಯನ್ನು ಕಾಪಾಡಿಕೊಂಡು ಬರಲು ಹೇಗೆ ಸಾಧ್ಯವಾಗಿದೆ?

- (1) ತಮ್ಮದೇ ಆದ ಜನ ಸಮುದಾಯದಲ್ಲಿ ವಾಸಿಸುವುದರಿಂದ
- (2) ಅಲೆಮಾರಿ ಪಂಗಡಕ್ಕೆ ಸೇರಿದ್ದರಿಂದ
- (3) ಕೆಲವು ವಿದ್ಯೆಗಳನ್ನು ಸಿದ್ಧಿ ಮಾಡಿಕೊಂಡಿರುವುದರಿಂದ
- (4) ಅವರು ಹೊಟ್ಟೆ ಪಾಡಿಗಾಗಿ ಸಂಚರಿಸುವುದರಿಂದ

**SPACE FOR ROUGH WORK**

03. 'ಅಲೆಮಾರಿ' ಶಬ್ದದ ಸಮಾನ ಅರ್ಥ ಕೊಡುವ ಪರ್ಯಾಯ ಯಾವುದು?

(1) ಜನಾಂಗ

(2) ಪಂಗಡ

(3) ಸುಡುಗಾಡು

(4) ಸಂಚಾರಿ

ಪ್ರಶ್ನೆ ಕ್ರಮಾಂಕ 04 ರಿಂದ 06ರ ಸಲುವಾಗಿ ಸೂಚನೆ :-

ಕೆಳಗಿನ ಕವಿತೆಯನ್ನು ಓದಿರಿ. ಅದರ ಕೆಳಗೆ ಕೇಳಲಾಗಿರುವ ಪ್ರಶ್ನೆಗಳ ಯೋಗ್ಯ ಉತ್ತರಗಳನ್ನು ಪರ್ಯಾಯಗಳಿಂದ ಆರಿಸಿರಿ.

ಸುಗ್ಗಿಯು ಬಂದಿತು ಹಿಗ್ಗನು ತಂದಿತು  
ನಮ್ಮಯ ನಾಡಿನ ಜನಕೆಲ್ಲ  
ಸಗ್ಗದ ಸುಖವನು ನೀಡುತ ರೈತಗೆ  
ದುಡಿಯಲು ಹಚ್ಚಿತು ದಿನವೆಲ್ಲ

ಬೆಳಸಿಯ ತಿನ್ನುತ ಮಜ್ಜೆಗೆ ಕುಡಿಯುತ  
ಇರುವರು ರೈತರು ಸುಖದಲ್ಲಿ  
ಜೋಳನು ಕೊಯ್ಯುತ ಗೂಡನು ಹಾಕುತ  
ಕುಣಿವರು ರೈತರು ಹೊಲದಲ್ಲಿ

ಕಣವನು ಕಡಿಯುತ ನೀರನು ಹೊಡೆಯುತ  
ಮೇಟಿಯ ಕುಣಿಯನು ಅಗೆಯುವರು  
ತೆನೆಯನು ಮುರಿಯುತ ಹಾಡನು ಹೇಳುತ  
ಗುಂಪಿಯ ನೆಳೆಯುತ ಒಗೆಯುವರು.

ಹಂತಿಯ ಹೊಡೆಯುತ ಕಂಕಿಯ ತೆಗೆಯುತ  
ಬೆಳಗಿನವರೆಗೂ ಹಾಡುವರು  
ಕಾಳನು ತೂರುತ ಗಾಡಿಗೆ ಹೇರುತ  
ಊರಿನ ಕಡೆಗೆ ಓಡುವರು

**SPACE FOR ROUGH WORK**

04. ಯಾವುದು ರೈತರಿಗೆ ದುಡಿಯಲು ಹಚ್ಚಿತು?

- (1) ಸುಖ (2) ಸುಗ್ಗಿ  
(3) ಹಿಗ್ಗು (4) ಬೆಳೆ

05. ಕೆಳಗಿನವುಗಳಲ್ಲಿ ತಪ್ಪಾದ ವಾಕ್ಯ ಗುರುತಿಸಿರಿ.

- (1) ರೈತರು ರಾತ್ರಿಯಿಂದ ಬೆಳಗಿನವರೆಗೂ ಕುಣಿಯುವರು.  
(2) ಸುಗ್ಗಿಯು ರೈತರಿಗೆ ಸುಖವನ್ನು ನೀಡುತ್ತದೆ.  
(3) ರೈತರು ತನೆಯನ್ನು ಮುರಿಯುತ್ತ ಹಾಡನ್ನು ಹೇಳುವರು.  
(4) ರೈತರು ಜೋಳವನ್ನು ಕೊಯ್ದು ಗೂಡು ಹಾಕುವರು.

06. 'ನರಕ' ಎನ್ನುವ ಪದದ ವಿರುದ್ಧಾರ್ಥಕ ಪದ ಕವಿತೆಯಲ್ಲಿ ಬಂದಿದೆ. ಅದು ಯಾವುದೆಂಬುದು ಪರ್ಯಾಯದಿಂದ ಆರಿಸಿರಿ.

- (1) ಹಂತಿ (2) ಸುಖ  
(3) ಸುಗ್ಗಿ (4) ಸಗ್ಗ

07. 'ತನುಜ' ಈ ಶಬ್ದದ ವಿರುದ್ಧ ಲಿಂಗವಾಗಿರುವ ಶಬ್ದ ಗುರುತಿಸಿರಿ.

- (1) ತನಯ (2) ತನುಜೆ  
(3) ಮಗ (4) ಮಕ್ಕಳು

08. 'ತಾಯಿ' ಈ ಪದದ ವಚನ ಬದಲಿಸಿದ ರೂಪ ಯಾವುದು?

- (1) ತಾಯಿಂದಿರು (2) ಅಮ್ಮ  
(3) ತಾಯಿಯರು (4) ತಾಯಿಗಳು

09. ಅಜ್ಜಿಯ ಹೇಳಿಕೆಯ ಪ್ರಕಾರ ಮುನ್ನಡೆದು ನಗರವನ್ನು ತಲುಪಿದರು.

ಈ ವಾಕ್ಯದ ಕಾಲ ಗುರುತಿಸಿರಿ.

- (1) ಭವಿಷ್ಯತ್‌ಕಾಲ (2) ವರ್ತಮಾನಕಾಲ  
(3) ಭೂತಕಾಲ (4) ಹೇಳಲು ಬರುವುದಿಲ್ಲ

**SPACE FOR ROUGH WORK**

10. ರಾಜನು ತನ್ನ ಮಂತ್ರಿಯೊಡನೆ ವೇಷ ಬದಲಿಸಿಕೊಂಡು ದಿನಾಲು ರಾತ್ರಿ ತಿರುಗಾಡಲು ಹೋಗುತ್ತಿದ್ದನು. ಈ ವಾಕ್ಯದಲ್ಲಿರುವ ಸರ್ವನಾಮ ಯಾವುದು?
- (1) ರಾಜ (2) ಮಂತ್ರಿ  
(3) ವೇಷ (4) ತನ್ನ

ಪ್ರಶ್ನೆ ಕ್ರಮಾಂಕ 11ರಿಂದ 13ರ ಸಲುವಾಗಿ ಸೂಚನೆ :-

ಕೆಳಗಿನ ಸುಸಂಗತ ಪರಿಚ್ಛೇದದ ಮೂರು ವಾಕ್ಯಗಳನ್ನು ಓದಿರಿ. ಮತ್ತು ಉತ್ತರಗಳನ್ನು ಪರ್ಯಾಯಗಳಿಂದ ಆರಿಸಿರಿ.

11. ಆ ದಿನ ಮನೆಯಲ್ಲಿ ..... ಹಬ್ಬದ ಸಡಗರವಿತ್ತು.
- (1) ದೀಪಾವಳಿ (2) ನಾಗರಪಂಚಮಿ  
(3) ಯುಗಾದಿ (4) ಕಾರ ಹುಣ್ಣಿಮೆ
12. ಮಾವನು ಅಂಗಡಿಯಿಂದ ..... ಗಳನ್ನು ತಂದನು.
- (1) ರಾಖಿ (2) ಸಿಹಿತಿಂಡಿ  
(3) ಪಟಾಕಿ (4) ಮೂರ್ತಿ
13. ಪರ್ಯಾವರಣದ ರಕ್ಷಣೆಗಾಗಿ ನಾವು ಅವುಗಳನ್ನು ಉಪಯೋಗಿಸದೇ ..... ಗಳನ್ನು ಹಚ್ಚಿ, ಬೆಳಕು ಮೂಡಿಸುವ ಈ ಹಬ್ಬವನ್ನು ಪ್ರದೂಷಣಮುಕ್ತವಾಗಿ ಆಚರಿಸಿದೆವು.
- (1) ಹೂವು (2) ದೀಪ  
(3) ತೋರಣ (4) ಬಣ್ಣದ ಕಾಗದ
14. ಕೆಳಗಿನ ಪರ್ಯಾಯಗಳಲ್ಲಿ ತಪ್ಪಾಗಿರುವ ವಿರುದ್ಧಾರ್ಥಕ ಶಬ್ದದ ಜೋಡಿ ಯಾವುದು?
- (1) ಆರೋಗ್ಯ X ಅನಾರೋಗ್ಯ (2) ಭಾಜ್ಯ X ವಿಭಾಜ್ಯ  
(3) ಅನುಕೂಲ X ಅನಾನುಕೂಲ (4) ಉನ್ನತಿ X ಪ್ರಗತಿ

**SPACE FOR ROUGH WORK**

15. ಮೊಬಾಯಿಲ್ ಅಂದರೆ.....?

- (1) ಭ್ರಮಣಧ್ವನಿ (2) ದೂರವಾಣಿ  
(3) ದೂರದರ್ಶನ (4) ಆಕಾಶವಾಣಿ

16. ಕೆಳಗಿನ ಪರ್ಯಾಯಗಳಲ್ಲಿಯ ಅಶುದ್ಧ ಶಬ್ದವನ್ನು ಗುರುತಿಸಿರಿ.

- (1) ಪರ್ವತಾರೋಹಿ (2) ಸಮಯಪ್ರಜ್ಞೆ  
(3) ವೃತ ಪತ್ರಿಕೆ (4) ಧೈರ್ಯ ಸಾಹಸ

17. ಕೊಟ್ಟ ಪಡೆನುಡಿಯ ಅರ್ಥವನ್ನು ಕೊಡುವ ಪರ್ಯಾಯ ಯಾವುದು?  
ಬಾಯಲ್ಲಿ ನೀರೂರು.....

- (1) ನೀರಡಿಕೆಯಾಗು (2) ಅತಿಯಾಸೆಯಾಗು  
(3) ಜೊಲ್ಲುಸುರಿಸು (4) ಬಾಯಿ-ಬಾಯಿ ಬಡೆದುಕೊಳ್ಳು

18. ಗಾದೆ ಮಾತಿಗನುಸಾರವಾಗಿ ವಾಕ್ಯ ಪೂರ್ಣ ಮಾಡಿರಿ.  
ಸಜ್ಜನರ ಸಂಗ ..... ಸವಿದಂತೆ.

- (1) ಹೆಜ್ಜೆನು (2) ಸಕ್ಕರೆಯು  
(3) ಸಿಹಿ ತುಪ್ಪ (4) ಹುಗ್ಗಿಯನು

19. ಕೆಳಗಿನ ಪದಬಂಧದಲ್ಲಿ ಬರುವ ಯೋಗ್ಯ ಅಕ್ಷರವನ್ನು ಪರ್ಯಾಯದಿಂದ ಆರಿಸಿರಿ.

		ರ		
		ಜ		
ವೀ	ರ		ರ	ಣ
		ಒ		
		ಉ		
		ಋ		

- (1) ಶೂ (2) ಳ  
(3) ಮ (4) ಸ್

**SPACE FOR ROUGH WORK**

20. ಕೆಳಗಿನ ಜೋಡು ಶಬ್ದಗಳಲ್ಲಿಯ ತಪ್ಪಾದ ಜೋಡಿ ಯಾವುದು?  
ಸಾವು-ನೋವು, ದವಸ-ಧಾನ್ಯ, ನೋಟ-ತೋಟ, ಘನತೆ-ಗೌರವ
- (1) ಸಾವು-ನೋವು (2) ದವಸ-ಧಾನ್ಯ  
(3) ಘನತೆ-ಗೌರವ (4) ನೋಟ-ತೋಟ
21. 'ಸೋಗಸು, ಸಕ್ರೀಯ, ಸಾರಿಗೆ, ಸುಂದರ' ಈ ಶಬ್ದಗಳನ್ನು ವರ್ಣಾನುಕ್ರಮವಾಗಿ ಬರೆಯಲಾಗಿ ಎರಡನೆಯ ಕ್ರಮಾಂಕದಲ್ಲಿ ಬರುವ ಶಬ್ದ ಯಾವುದು?
- (1) ಸಕ್ರೀಯ (2) ಸೋಗಸು  
(3) ಸಾರಿಗೆ (4) ಸುಂದರ
22. 'ನ, ಹಾ, ರ, ಗ, ಮ' ಈ ಅಕ್ಷರಗಳನ್ನು ಉಪಯೋಗಿಸಿ ತಯಾರಿಸಿದ ಅರ್ಥಪೂರ್ಣ ಶಬ್ದದ ಕೊನೆಯ ಅಕ್ಷರ ಯಾವುದು?
- (1) ಹಾ (2) ರ  
(3) ನ (4) ಗ
23. 'ಆಡು, ಮರ, ದಂಡ, ಕರ' ಈ ಶಬ್ದಗಳಲ್ಲಿ ಎರಡು ಅರ್ಥಗಳನ್ನು ಕೊಡಲಾರದ ಶಬ್ದ ಯಾವುದು?
- (1) ಮರ (2) ಆಡು  
(3) ದಂಡ (4) ಕರ
24. ತನ್ನ ಹೆಚ್ಚಿರಲನ್ನೇ ಗುರುಕಾಣಿಕೆಯಾಗಿ ಕೊಟ್ಟು ಗುರುಭಕ್ತಿಗೆ ಪ್ರತೀಕವಾದ ಶಿಷ್ಯ ಯಾರು?
- (1) ಬಬ್ರುವಹನ (2) ಏಕಲವ್ಯ  
(3) ಅರ್ಜುನ (4) ಸುದಾಮ
25. ಚೆನ್ನಮಲ್ಲಿಕಾರ್ಜುನ ಇದು ಯಾರ ಅಂಕಿತನಾಮವಾಗಿದೆ?
- (1) ಅಕ್ಕಮಹಾದೇವಿ (2) ಸರ್ವಜ್ಞ  
(3) ಬಸವೇಶ್ವರ (4) ಅಲ್ಲಮಪ್ರಭು

**SPACE FOR ROUGH WORK**

**SECTION - II**

**MATHEMATICS**

26. 5 dozen + 2 gross = ? dozens
- (1) 28 (2) 29  
(3) 25 (4) 27
27. The numbers divisible by 37 are arranged in ascending order. What will be the number at the sixth place?
- (1) 148 (2) 185  
(3) 111 (4) 222
28. If 12<sup>th</sup> August 2017 was Saturday, then which days would occur 5 times in August?
- (1) Thursday, Friday, Saturday (2) Sunday, Monday, Tuesday  
(3) Tuesday, Wednesday, Thursday (4) Wednesday, Thursday, Friday
29. If the difference between two decimal fractions is 4.585 and one of the fractions is 3.256, then what is the other decimal fraction?
- (1) 1.329 (2) 7.851  
(3) 1.349 (4) 7.841
30. Choose the incorrect option.
- (1) 100 m = 1 hectometer (2) 1000 l = 1 kilo liter  
(3) 1 kg = 10 hectogram (4) 1 gm = 100 decigram

**SPACE FOR ROUGH WORK**



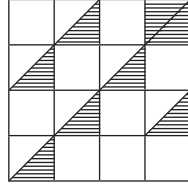
ವಿಭಾಗ - II

ಗಣಿತ

26. 5 ಡರುನ್ + 2 ಗ್ರೂಸ್ = ಎಷ್ಟು ಡರುನ್?
- (1) 28 (2) 29  
(3) 25 (4) 27
27. 37 ರ ವಿಭಾಜ್ಯಗಳಿರುವ ಸಂಖ್ಯೆಗಳು ಎರಿಕೆ ಕ್ರಮದಲ್ಲಿ ಬರೆದಾಗ. ಆರನೆಯ ಸ್ಥಾನದಲ್ಲಿ ಯಾವ ಸಂಖ್ಯೆ ಬರುವುದು?
- (1) 148 (2) 185  
(3) 111 (4) 222
28. 12 ಅಗಷ್ಟ 2017 ರಂದು ಶನಿವಾರ ಇತ್ತು ಹಾಗಾದರೆ ಅದೇ ತಿಂಗಳಲ್ಲಿ ಕೆಳಗಿನವುಗಳ ಪೈಕಿ ಯಾವ ವಾರಗಳು ಐದು ವೇಳೆ ಬರುವವು?
- (1) ಗುರುವಾರ, ಶುಕ್ರವಾರ, ಶನಿವಾರ (2) ರವಿವಾರ, ಸೋಮವಾರ, ಮಂಗಳವಾರ  
(3) ಮಂಗಳವಾರ, ಬುಧವಾರ, ಗುರುವಾರ (4) ಬುಧವಾರ, ಗುರುವಾರ, ಶುಕ್ರವಾರ
29. ಎರಡು ದಶಾಂಶ ಅಪೂರ್ಣಾಂಕಗಳಲ್ಲಿಯ ವ್ಯತ್ಯಾಸ 4.585 ಇದೆ. ಅವುಗಳ ಪೈಕಿ ಒಂದು ದಶಾಂಶ ಅಪೂರ್ಣಾಂಕ 3.256 ಇದ್ದರೆ ಎರಡನೆಯ ದಶಾಂಶ ಅಪೂರ್ಣಾಂಕ ಯಾವುದು?
- (1) 1.329 (2) 7.851  
(3) 1.349 (4) 7.841
30. ಕೆಳಗಿನವುಗಳ ಪೈಕಿ ತಪ್ಪು ಪರ್ಯಾಯ ಗುರುತಿಸಿರಿ.
- (1) 100 ಮೀ = 1 ಹೆಕ್ಟೋ. ಮೀ. (2) 1000 ಲೀ = 1 ಕಿಲೋ. ಲೀ.  
(3) 1 ಕಿ.ಗ್ರ್ಯಾಮ್ = 10 ಹೆಕ್ಟೋ ಗ್ರ್ಯಾಮ್ (4) 1 ಗ್ರ್ಯಾಮ್ = 100 ಡೆಸಿಗ್ರ್ಯಾಮ್

SPACE FOR ROUGH WORK

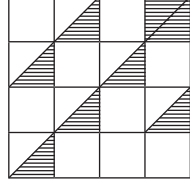
31. Find the percentage of the shaded portions in the adjoining figure.



- (1) 25 % (2) 4 %  
(3) 75 % (4) 7 %
32. What is the difference between the smallest 3 digit odd number and the greatest 2 digit even number?
- (1) 5 (2) 7  
(3) 0 (4) 3
33. What is the difference between the first and the last number if 5.435, 5.084, 5.123, 5.064 are arranged in ascending order.
- (1) 0.371 (2) 0.351  
(3) 0.312 (4) 0.361
34. Vijayrao purchased 30 dozen oranges at the rate of Rs. 50 per dozen. 15 oranges were spoiled. He sold the remaining oranges at Rs. 6 per orange. How much profit or loss did he earn in this transaction?
- (1) Profit of Rs. 570 (2) Loss of Rs. 570  
(3) Loss of Rs. 345 (4) Profit of Rs. 345

**SPACE FOR ROUGH WORK**

31. ಕೆಳಗೆ ಕೊಟ್ಟ ಆಕೃತಿಯಲ್ಲಿಯ ರೇಖಾಂಖಿತ ಭಾಗದ ಶೇಕಡಾ ಪ್ರಮಾಣ ತೆಗೆಯಿರಿ.



(1) 25 %

(2) 4 %

(3) 75 %

(4) 7 %

32. ಮೂರು ಅಂಕಿಯ ಅತಿ ಚಿಕ್ಕ ವಿಷಮಸಂಖ್ಯೆ ಮತ್ತು ಎರಡು ಅಂಕಿಯ ಅತಿ ದೊಡ್ಡ ಸಮಸಂಖ್ಯೆ ಇವುಗಳಲ್ಲಿ ವ್ಯತ್ಯಾಸ ಎಷ್ಟು?

(1) 5

(2) 7

(3) 0

(4) 3

33. 5.435, 5.084, 5.123, 5.064 ಈ ಸಂಖ್ಯೆಗಳು ಏರಿಕೆ ಕ್ರಮದಲ್ಲಿ ಮಂಡಿಸಿದಾಗ ಮೊದಲನೆಯ ಮತ್ತು ಕೊನೆಯ ಸಂಖ್ಯೆಗಳಲ್ಲಿಯ ವ್ಯತ್ಯಾಸ ಎಷ್ಟು?

(1) 0.371

(2) 0.351

(3) 0.312

(4) 0.361

34. ವಿಜಯರಾವನು 50 ರೂ. ಪ್ರತಿ ಡರ್ಟುನ ದರದಿಂದ 30 ಡರ್ಟುನ್ ಕಿತ್ತಳೆ ಹಣ್ಣು ಕೊಂಡುಕೊಂಡನು. ಅವುಗಳವೆಕೆ 15 ಹಣ್ಣುಗಳು ಕೆಟ್ಟು ನಾಶವಾದವು ಉಳಿದ ಎಲ್ಲ ಹಣ್ಣುಗಳು 6 ರೂ. ಪ್ರತಿ ಕಿತ್ತಳೆ ಹಣ್ಣು ದರದಿಂದ ಮಾರಿದರೆ ಅವನಿಗೆ ಈ ವ್ಯವಹಾರದಲ್ಲಿ ಎಷ್ಟು ಲಾಭ ಅಥವಾ ಹಾನಿ ಆಯಿತು?

(1) 570 ರೂ. ಲಾಭ

(2) 570 ರೂ. ಹಾನಿ

(3) 345 ರೂ. ಹಾನಿ

(4) 345 ರೂ. ಲಾಭ

**SPACE FOR ROUGH WORK**

35. If 15 kg 500 gm of rice is filled in a box then how much rice will be required to fill 10 such boxes?

- (1) 115kg (2) 155kg  
(3) 1150kg (4) 150kg

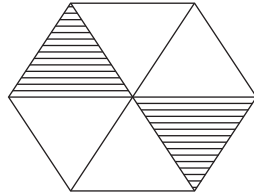
36. A bottle can contain 125 ml of scented oil. How many bottles will be required to fill 4l of scented oil?

- (1) 32 (2) 24  
(3) 50 (4) 34

37.  $3\Delta 4\square$  is completely divisible by 6. Which numbers will occur in place of  $\square$  and  $\Delta$  respectively?

- (1) 3, 2 (2) 3, 4  
(3) 2, 3 (4) 5, 1

38. Which fraction of the following options does not indicate the equivalent fraction of the unshaded portion in the given figure?



- (1)  $\frac{4}{6}$  (2)  $\frac{2}{3}$   
(3)  $\frac{1}{3}$  (4)  $\frac{8}{12}$

SPACE FOR ROUGH WORK

35. ಒಂದು ಡಬ್ಬಿಯಲ್ಲಿ 15ಕಿ. 500 ಗ್ರ್ಯಾಮ್ ಅಕ್ಕಿ ತುಂಬಿದರೆ ಅಂತಹದೇ 10 ಡಬ್ಬಿಗಳಲ್ಲಿ ಎಷ್ಟು ಅಕ್ಕಿ ಹಿಡಿಯುವವು?

(1) 115 ಕಿ.

(2) 155 ಕಿ.

(3) 1150 ಕಿ.

(4) 150 ಕಿ.

36. ಒಂದು ಬಾಟಲಿಯಲ್ಲಿ 125ಮಿಲೀ. ಸುವಾಸಿಕ ಎಣ್ಣೆ ತುಂಬಿದರೆ 4ಲೀಟರ್ ಸುವಾಸಿಕ ಎಣ್ಣೆ ತುಂಬುವ ಸಲುವಾಗಿ ಎಷ್ಟು ಬಾಟಲಿಗಳು ಬೇಕಾಗುವವು?

(1) 32

(2) 24

(3) 50

(4) 34

37. 3  $\Delta$  4  $\square$  ಈ ಸಂಖ್ಯೆಗೆ 6 ರಿಂದ ನಿಶೇಷ ಭಾಗ ಹೋಗುವದು ಹಾಗಾದರೆ  $\square$  ಮತ್ತು  $\Delta$  ದ ಸ್ಥಳಗಳಲ್ಲಿ ಅನುಕ್ರಮವಾಗಿ ಯಾವ ಅಂಕಿಗಳು ಇರಬೇಕು?

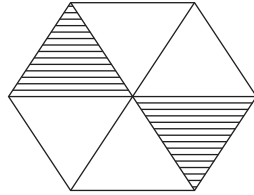
(1) 3, 2

(2) 3, 4

(3) 2, 3

(4) 5, 1

38. ಕೆಳಗಿನ ಆಕೃತಿಯಲ್ಲಿ ಕೊಟ್ಟ ಪರ್ಯಾಯಗಳ ಪೈಕಿ ಯಾವ ಅಪೂರ್ಣಾಂಕ ರೇಖಾಂಕಿತ ಮಾಡದಿರುವ ಭಾಗದ ಸಮಮೂಲ್ಯ ಅಪೂರ್ಣಾಂಕ ಇಲ್ಲ?



(1)  $\frac{4}{6}$

(2)  $\frac{2}{3}$

(3)  $\frac{1}{3}$

(4)  $\frac{8}{12}$

**SPACE FOR ROUGH WORK**

39. In how many years the principle amount of Rs. 4,000 will get double at the rate of 10 % p.a. by simple interest?

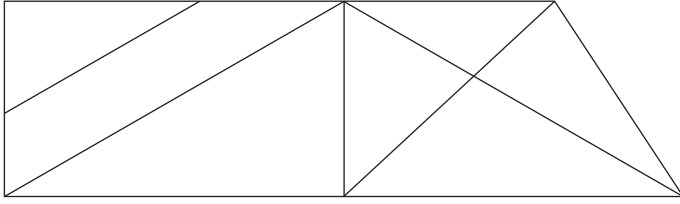
(1) 20

(2) 10

(3) 5

(4) 2

40. In the adjoining figure, by how much is the number of triangles more or less than that of number of rectangles?



(1) more by 2

(2) less by 2

(3) more by 4

(4) less by 4

41. Which of the following options has the place value of 5, the least?

(1) 54,389

(2) 49,385

(3) 45,389

(4) 74,592

42. Choose the incorrect option from the given alternatives.

(1)  $\frac{3}{7}$  of 28 = 12

(2) 15 of  $\frac{4}{5}$  = 12

(3)  $\frac{6}{7}$  of 14 = 12

(4) 18 of  $\frac{8}{9}$  = 12

**SPACE FOR ROUGH WORK**

39. 4000 ರೂ. 10% ದರದಿಂದ ಸರಳಬಡ್ಡಿಯನುಸಾರ ಎಷ್ಟು ವರ್ಷ ಬ್ಯಾಂಕಿನಲ್ಲಿ ಇಟ್ಟರೆ ಸಿಗುವ ಒಟ್ಟು ಹಣ ಅಸಲಿನ ಎರಡು ಪಟ್ಟು ಇರುವುದು?

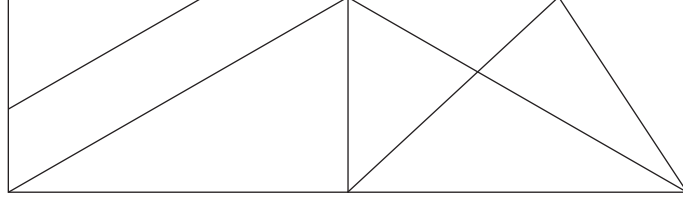
(1) 20

(2) 10

(3) 5

(4) 2

40. ಕೆಳಗಿನ ಆಕೃತಿಯಲ್ಲಿ ತ್ರಿಕೋನಗಳ ಸಂಖ್ಯೆಯು ಚೌಕೋನಗಳ ಸಂಖ್ಯೆಗಿಂತ ಎಷ್ಟರಿಂದ ಕಡಿಮೆ ಅಥವಾ ಹೆಚ್ಚು ಇದೆ?



(1) 2 ರಿಂದ ಹೆಚ್ಚು

(2) 2 ರಿಂದ ಕಡಿಮೆ

(3) 4 ರಿಂದ ಹೆಚ್ಚು

(4) 4 ರಿಂದ ಕಡಿಮೆ

41. ಕೆಳಗಿನವುಗಳ ಪೈಕಿ ಯಾವ ಪರ್ಯಾಯದಲ್ಲಿಯೂ 5 ಈ ಅಂಕಿಯ ಸ್ಥಾನಿಕ ಬೆಲೆ ಕಡಿಮೆ ಇದೆ?

(1) 54,389

(2) 49,385

(3) 45,389

(4) 74,592

42. ಕೆಳಗೆ ಕೊಟ್ಟ ಪರ್ಯಾಯಗಳಿಂದ ಅಯೋಗ್ಯ ಪರ್ಯಾಯ ಆರಿಸಿರಿ.

(1) 28 ರ  $\frac{3}{7}$  ಪಟ್ಟು = 12

(2)  $\frac{4}{5}$  ರ 15 ಪಟ್ಟು = 12

(3) 14 ರ  $\frac{6}{7}$  ಪಟ್ಟು = 12

(4)  $\frac{8}{9}$  ರ 18 ಪಟ್ಟು = 12

**SPACE FOR ROUGH WORK**

43. 504m long wire is cut at 8 places at equal distance. What will be the length of each piece?

- (1) 68m (2) 63m  
(3) 56m (4) 54m

44. Write the correct option from the given alternatives.

- (1)  $(20 + 5) \div 5 = 20 \div 5 + 5$  (2)  $7 \times 8 + 5 = 5 + 8 \times 7$   
(3)  $105 \div 3 > 4 \times 9$  (4)  $100 \times 10 \div 1 < 100 \div 10 \times 10$

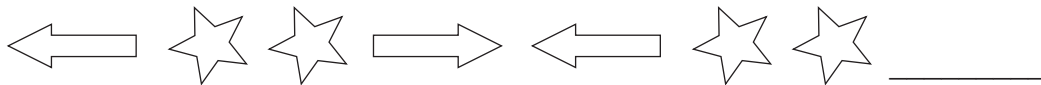
45. By how much is the sum of number edges and vertices of a cuboid, more than the difference of the number of edges and faces of a cube?

- (1) 8 (2) 12  
(3) 14 (4) 6

46. Harjeet took a loan of Rs. 20,000 from a bank at the rate of 7 p.c.p.a. for 3 years. How much simple interest will he have to pay to the bank?

- (1) Rs. 4,200 (2) Rs. 4,300  
(3) Rs. 4,380 (4) Rs. 2,400

47. Complete the following series.



- (1) (2)   
(3) (4)

**SPACE FOR ROUGH WORK**



43. 504 ಮೀಟರ ತಂತಿಯನ್ನು 8 ಸಲ ಕತ್ತರಿಸಿ ಅವುಗಳ ಸಮಾನ ತುಂಡು ಮಾಡಿದರೆ, ಪ್ರತಿಯೊಂದು ತುಂಡಿನ ಉದ್ದಳತೆ ಎಷ್ಟು?

- (1) 68 ಮೀ. (2) 63 ಮೀ.  
(3) 56 ಮೀ. (4) 54 ಮೀ.

44. ಕೆಳಗಿನವುಗಳ ಪೈಕಿ ಯಾವ ಪರ್ಯಾಯ ಯೋಗ್ಯವಾಗಿದೆ ಅದು ಆರಿಸಿರಿ.

- (1)  $(20 + 5) \div 5 = 20 \div 5 + 5$  (2)  $7 \times 8 + 5 = 5 + 8 \times 7$   
(3)  $105 \div 3 > 4 \times 9$  (4)  $100 \times 10 \div 1 < 100 \div 10 \times 10$

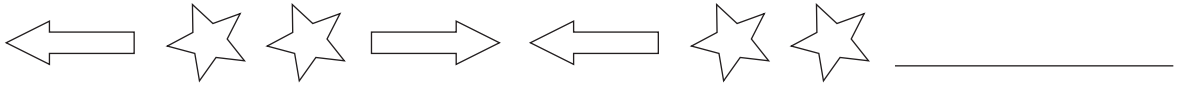
45. ಇಷ್ಟಿಕ್ಯಾಚಿತಿಯ ಅಂಚು ಮತ್ತು ಶಿರೋಬಿಂದುಗಳ ಒಟ್ಟು ಬೇರೀಜು ಘನದ ಅಂಚು ಮತ್ತು ಪುಷ್ಪಗಳ ವಜಾಬಾಕಿಗಿಂತ ಎಷ್ಟರಿಂದ ಹೆಚ್ಚು ಇದೆ?

- (1) 8 (2) 12  
(3) 14 (4) 6

46. ಹರಜೀತ ಬ್ಯಾಂಕಿನಿಂದ 20,000 ರೂ. ಪ್ರ.ವ. ಪ್ರ.ಶೇ. 7% ದರದಿಂದ 3 ವರ್ಷಗಳ ಸಲುವಾಗಿ ಸರಳಬಡ್ಡಿಯಿಂದ ತೆಗೆದುಕೊಂಡನು. ಹಾಗಾದರೆ ಆತನು ಬ್ಯಾಂಕಿಗೆ ಎಷ್ಟು ಬಡ್ಡಿ ಕೊಡಬೇಕಾಗುವುದು?

- (1) 4,200 ರೂ (2) 4,300 ರೂ  
(3) 4,380 ರೂ (4) 2,400 ರೂ

47. ಮುಂದಿನ ಆಕೃತಿಬಂಧ ಪೂರ್ಣ ಮಾಡಿರಿ.



- (1) (2)   
(3) (4)

**SPACE FOR ROUGH WORK**

48. How many times  $\frac{3}{4}$  should be added to  $\frac{3}{4}$ , to get the addition 3?  
(1) 4 (2) 3  
(3) 5 (4) 2
49. In a market, if the cost of 17 boxes of mangoes is Rs. 6,035, then what will be the price of 25 such boxes?  
(1) Rs. 355 (2) Rs. 8,875  
(3) Rs. 8,625 (4) Rs. 345
50. Maria had to reach for a seminar at 10.30 a.m. but her vehicle got punctured and she got late by 45 min. Then at what time did she reach for the seminar?  
(1) 11.30 min (2) 11.45 min  
(3) 1.30 min (4) 11.15 min
51. Which of the following options is incorrect?  
(1) Any number multiplied by zero, gives the same number.  
(2) Any number multiplied by zero, gives zero as the product.  
(3) Any number divided by 1 gives the same number as quotient.  
(4) Any number divided by the same number gives 1 as quotient.
52. How many 2 digit numbers have 6 in them?  
(1) 19 (2) 17  
(3) 18 (4) 21

**SPACE FOR ROUGH WORK**

48.  $\frac{3}{4}$  ಈ ಅಪೂರ್ಣಾಂಕದಲ್ಲಿ  $\frac{3}{4}$  ಎಷ್ಟು ಸಲ ಕೂಡಿಸಿದರೆ ಬೇರೀಜು 3 ಬರುವುದು?  
 (1) 4 (2) 3  
 (3) 5 (4) 2
49. ಸಂತೆಯಲ್ಲಿ 17 ಮಾವಿನ ಪೆಟ್ಟಿಗೆಗಳ ಬೆಲೆ 6,035 ರೂ. ಇದೆ. ಹಾಗಾದರೆ ಇಂತಹ 25 ಮಾವಿನ ಪೆಟ್ಟಿಗೆಗಳ ಬೆಲೆ ಎಷ್ಟು?  
 (1) 355 ರೂ (2) 8,875 ರೂ  
 (3) 8,625 ರೂ (4) 345 ರೂ
50. ಮಾರಿಯಾಳಿಗೆ ಒಂದು ಸೇಮಿನಾರಿಗೆ ಹತ್ತುವರೆ ಗಂಟೆಗೆ ಮುಟ್ಟಬೇಕಾಗಿತ್ತು ಆದರೆ ಅವಳ ವಾಹನ ಪಂಕ್ಚರ್ ಆಗಿದ್ದರಿಂದ ಅವಳಿಗೆ ಮೂಕ್ಕಾಲು ಗಂಟೆ ತಡವಾಯಿತು ಹಾಗಾದರೆ ಅವಳು ಎಷ್ಟು ಗಂಟೆಗೆ ಸೇಮಿನಾರಕ್ಕೆ ಮುಟ್ಟಿದಳು?  
 (1) 11 ಗಂ. 30 ಮಿನಿಟು (2) 11 ಗಂ. 45 ಮಿನಿಟು  
 (3) 1 ಗಂ. 30 ಮಿನಿಟು (4) 11 ಗಂ. 15 ಮಿನಿಟು
51. ಕೆಳಗಿನವುಗಳಲ್ಲಿ ಯಾವ ವಿಧಾನ ಅಯೋಗ್ಯವಾಗಿದೆ?  
 (1) ಯಾವುದೇ ಸಂಖ್ಯೆಗೆ ಶೂನ್ಯದಿಂದ ಗುಣಿಸಿದರೆ ಗುಣಾಕಾರ ಅದೇ ಸಂಖ್ಯೆ ಬರುವುದು.  
 (2) ಯಾವುದೇ ಸಂಖ್ಯೆಗೆ ಶೂನ್ಯದಿಂದ ಗುಣಿಸಿದರೆ ಗುಣಾಕಾರ ಶೂನ್ಯ ಬರುವುದು.  
 (3) ಯಾವುದೇ ಸಂಖ್ಯೆಗೆ ಒಂದರಿಂದ ಭಾಗಿಸಿದರೆ ಭಾಗಾಕಾರ ಅದೇ ಸಂಖ್ಯೆ ಬರುವುದು.  
 (4) ಯಾವುದೇ ಸಂಖ್ಯೆಗೆ ಅದೇ ಸಂಖ್ಯೆಯಿಂದ ಭಾಗಿಸಿದರೆ ಭಾಗಾಕಾರ ಒಂದು ಬರುತ್ತದೆ.
52. ಎರಡಂಕಿ ಸಂಖ್ಯೆಗಳಲ್ಲಿ 6 ಈ ಅಂಕಿ ಇರುವ ಸಂಖ್ಯೆಗಳು ಎಷ್ಟು?  
 (1) 19 (2) 17  
 (3) 18 (4) 21

**SPACE FOR ROUGH WORK**

53. What remains if 10 is subtracted from 10 % of 200?

- (1) 10 (2) 20  
(3) 180 (4) 190

54. Which of the pairs is neither co-prime nor twin prime?

82 | 88

71 | 73

41 | 43

29 | 31

- (1) 82, 88 (2) 71, 73  
(3) 41, 43 (4) 29, 31

55. Sameer wrote six lakhs seven as 6000007 by mistake. By how much is his answer wrong?

- (1) 54000 (2) 5400000  
(3) 600007 (4) 5040000

56.  $\left(\frac{3}{4} + \frac{5}{6} + \frac{5}{8}\right) = ?$

- (1)  $5\frac{2}{24}$  (2)  $\frac{13}{18}$   
(3)  $1\frac{3}{18}$  (4)  $2\frac{5}{24}$

57. A fencing is to be put around a square shape garden with area 625sq.m. What will be the expenses for a 4 layered fencing around it, if the rate of fencing is Rs. 50 per meter?

- (1) Rs. 5,000 (2) Rs. 50,000  
(3) Rs. 2,000 (4) Rs. 20,000

**SPACE FOR ROUGH WORK**

53. 200 ರ ಶೇಕಡಾ 10 ರಿಂದ 10 ಕಡಿಮೆ ಮಾಡಿದರೆ ಎಷ್ಟು ಉಳಿಯುವುದು?

(1) 10

(2) 20

(3) 180

(4) 190

54. ಕೆಳಗಿನವುಗಳಲ್ಲಿ ಯಾವ ಜೋಡಿ ಜೋಡಿಮೂಲ ಇಲ್ಲ ಮತ್ತು ಸಹ ಮೂಲವೂ ಇಲ್ಲ?

82 88

71 73

41 43

29 31

(1) 82, 88

(2) 71, 73

(3) 41, 43

(4) 29, 31

55. ಸಮೀರನು 'ಆರು ಲಕ್ಷ ಏಳು' ಈ ಸಂಖ್ಯೆ ಅಂಕಿಯಲ್ಲಿ ಬರೆಯುವಾಗ ಅವನು ತಪ್ಪಿ 6000007 ಹೀಗೆ ಬರೆದನು ಹಾಗಾದರೆ ಉತ್ತರ ಎಷ್ಟು ವ್ಯತ್ಯಾಸದಿಂದ ತಪ್ಪಿತು?

(1) 54000

(2) 5400000

(3) 600007

(4) 5040000

56.  $\left(\frac{3}{4} + \frac{5}{6} + \frac{5}{8}\right) =$  ಎಷ್ಟು?

(1)  $5\frac{2}{24}$

(2)  $\frac{13}{18}$

(3)  $1\frac{3}{18}$

(4)  $2\frac{5}{24}$

57. 625 ಚೌ.ಮೀ. ಕ್ಷೇತ್ರಫಲ ಇರುವ ಚೌರಸಾಕೃತಿ ಹೂದೋಟಕ್ಕೆ 4 ಸುತ್ತಿನ ಸುತ್ತೋಲೆ ಹಾಕುವ ಸಲುವಾಗಿ 50 ರೂ ಪ್ರತಿ ಮೀಟರ ದರದಂತೆ ಎಷ್ಟು ಖರ್ಚು ಬರುವುದು?

(1) 5,000 ರೂ

(2) 50,000 ರೂ

(3) 2,000 ರೂ

(4) 20,000 ರೂ

**SPACE FOR ROUGH WORK**

58. Under a tree plantation programme, a social welfare organisation decided to plant trees at 5km distance on 100km long road, on both the sides. How many trees can be planted?

- (1) 40 (2) 42  
(3) 20 (4) 21

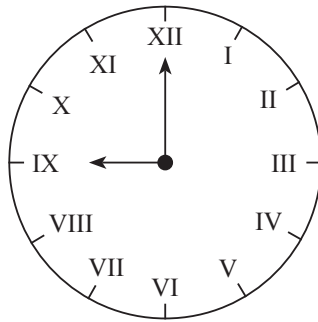
59. Sandeep has a bundle of notes of Rs. 100 from serial number 42378 to 42432. If instead of Rs. 100 notes, he wants Rs. 500 notes, how many notes of Rs. 500 can he get?

- (1) 11 (2) 55  
(3) 10 (4) 54

60. Aditya incurred Rs. 9,500 expenditure towards travel for his Kerala trip. He spent Rs. 7,250 on miscellaneous expenses. How much did he spend in all for Kerala trip?

- (1) Rs. sixteen thousand seven hundred and fifty.  
(2) Rs. sixteen thousand five hundred.  
(3) Rs. seventeen thousand two hundred and fifty.  
(4) Rs. fifteen thousand seven hundred and fifty.

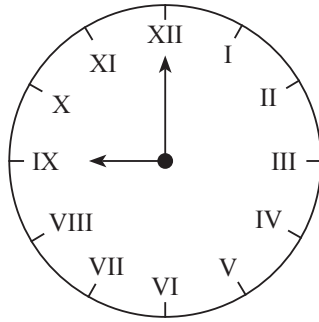
61. What is the time in the adjacent clock?



- (1) 12 (2) 9  
(3) 8 (4) 11

**SPACE FOR ROUGH WORK**

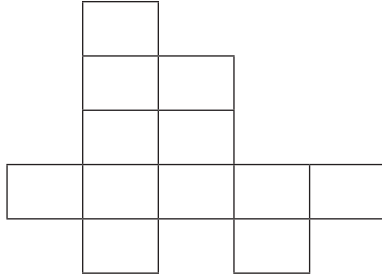
58. ಒಂದು ಸಂಸ್ಥೆಯವರು ವೃಕ್ಷಾರೋಪಣ ಕಾರ್ಯಕ್ರಮದ ಅಂಗವಾಗಿ 100 ಕಿ.ಮೀ. ಉದ್ದಿನ ರಸ್ತೆಯ ಮೇಲೆ 5 ಕಿ.ಮೀ. ಅಂತರದ ಮೇಲೆ ಒಂದರಂತೆ ಎರಡೂ ಬದಿಗೆ ಗಿಡಗಳು ಹಚ್ಚಲು ನಿರ್ಧರಿಸಿದರೆ ಒಟ್ಟು ಎಷ್ಟು ಗಿಡಗಳು ಹಚ್ಚಬಹುದು?
- (1) 40 (2) 42  
(3) 20 (4) 21
59. ಸಂದೀಪನ ಹತ್ತಿರ 42378 ಕ್ರಮಾಂಕದಿಂದ 42432 ಕ್ರಮಾಂಕದ ವರೆಗಿನ ಕ್ರಮವಾಗಿರುವ 100ರೂ ನೋಟುಗಳ ಒಂದು ಬಂಡಲ್ ಇದೆ. ಆ 100 ರೂಪಾಯಿಗಳ ನೋಟುಗಳ ಬದಲಾಗಿ 500 ರೂಪಾಯಿಗಳ ನೋಟುಗಳು ಬೇಕಾದರೆ 500 ರೂಪಾಯಿಗಳ ಒಟ್ಟು ಎಷ್ಟು ನೋಟುಗಳು ಬರುವವು?
- (1) 11 (2) 55  
(3) 10 (4) 54
60. ಆದಿತ್ಯನಿಗೆ ಕೆರಳ ಪ್ರವಾಸದ ಸಲುವಾಗಿ ಒಂಬತ್ತುವರೆ ಸಾವಿರ ಪ್ರವಾಸ ಖರ್ಚು ಮತ್ತು ಏಳು ಕಾಲುಸಾವಿರ ರೂಪಾಯಿ ಇತರ ಖರ್ಚು ಆಯಿತು ಹಾಗಾದರೆ ಕೆರಳ ಪ್ರವಾಸಕ್ಕಾಗಿ ಒಟ್ಟು ಎಷ್ಟು ರೂಪಾಯಿ ಖರ್ಚು ಆಯಿತು?
- (1) ಹದಿನಾರು ಮುಕ್ಕಾಲು ಸಾವಿರ  
(2) ಹದಿನಾರು ವರೆ ಸಾವಿರ  
(3) ಹದಿನೇಳು ಕಾಲು ಸಾವಿರ  
(4) ಹದಿನೈದು ಮುಕ್ಕಾಲು ಸಾವಿರ
61. ಬದಿಯ ಗಡಿಯಾರದಲ್ಲಿ ಎಷ್ಟು ಘಂಟೆಯಾಗಿದೆ?



- (1) 12 (2) 9  
(3) 8 (4) 11

**SPACE FOR ROUGH WORK**

62. Find the perimeter of the adjoining figure if the area of every square is 1 sq. cm.

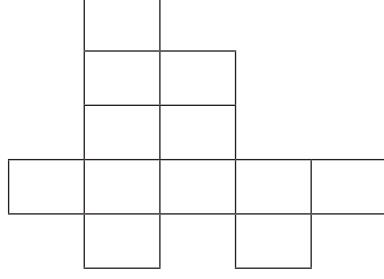


- (1) 22 cm (2) 22 sq. cm.  
(3) 12 cm (4) 12 sq. cm.
63.  $435 \times 1 * = 5 * * 0$   
In this multiplication, \* has the same digit. Find the digit in place of \*.
- (1) 0 (2) 1  
(3) 2 (4) 3
64. Iqbal purchased an old motorcycle at Rs. 25,000. He spent Rs. 8,500 on its repairs, Rs. 2,500 for its colouring and then sold it at Rs. 38,500. How much profit did he earn in the following transaction?
- (1) Rs. 13,500 (2) Rs. 2,500  
(3) Rs. 2,850 (4) Rs. 1,550
65. Which of the following is a correct statement?
- (1) The sum of all angles of a square is  $180^\circ$ .  
(2) The sum of all angles of a triangle is equal to right angle.  
(3) The number of sides of a rectangle is double the number of sides of a triangle.  
(4) The sum of all angles of a triangle is half the sum of all angles of a rectangle.

SPACE FOR ROUGH WORK



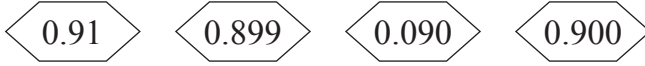
62. ಕೆಳಗಿನ ಆಕೃತಿಯಲ್ಲಿಯ ಪ್ರತಿ ಚೌರಸದ ಕ್ಷೇತ್ರಫಲ 1 ಚೌ.ಸೆ.ಮೀ ಇದ್ದರೆ ಆಕೃತಿಯ ಪರಿಮಿತಿ ತೆಗೆಯಿರಿ.



- (1) 22 ಸೆ.ಮೀ (2) 22 ಚೌ.ಸೆ.ಮೀ  
 (3) 12 ಸೆ.ಮೀ (4) 12 ಚೌ.ಸೆ.ಮೀ
63.  $435 \times 1 * = 5 * * 0$   
 ಈ ಗುಣಾಕಾರದಲ್ಲಿ '\*' ದ ಸ್ಥಳದಲ್ಲಿ ಸಮಾನ ಅಂಕಿ ಇದೆ ಹಾಗಾದರೆ ಆ ಅಂಕಿ ಯಾವುದು?  
 (1) 0 (2) 1  
 (3) 2 (4) 3
64. ಇಕಬಾಲನು 25,000 ರೂಪಾಯಿಗೆ ಒಂದು ಹಳೆಯ ವಾಹನ ಖರೀದಿಸಿದನು. ಅದರ ದುರಸ್ತಿಗಾಗಿ 8,500 ರೂ ಮತ್ತು ಬಣ್ಣ ಕೊಡಲು 2500 ರೂ ಖರ್ಚು ಮಾಡಿದನು ಮತ್ತು ಆ ವಾಹನ 38500 ರೂಪಾಯಿಗೆ ಮಾರಾಟ ಮಾಡಿದನು ಹಾಗಾದರೆ ಈ ವ್ಯವಹಾರದಲ್ಲಿ ಅವನಿಗೆ ಎಷ್ಟು ಲಾಭವಾಯಿತು?  
 (1) 13,500 ರೂ (2) 2,500 ರೂ  
 (3) 2,850 ರೂ (4) 1,550 ರೂ
65. ಕೆಳಗಿನವುಗಳಲ್ಲಿ ಯಾವ ವಿಧಾನ ಯೋಗ್ಯವಾಗಿದೆ?  
 (1) ಚೌರಸದ ನಾಲ್ಕು ಕೋನಗಳ ಬೇರೀಜು  $180^\circ$  ಇರುತ್ತದೆ.  
 (2) ತ್ರಿಕೋನದ ಎಲ್ಲ ಕೋನಗಳ ಬೇರೀಜು ಕಾಟಕೋನದಷ್ಟು ಇರುವುದು.  
 (3) ಚೌಕೋನದ ಭುಜಗಳ ಸಂಖ್ಯೆ ಇದು ತ್ರಿಕೋನದ ಭುಜಗಳ ಇಮ್ಮಡಿ ಇರುತ್ತದೆ.  
 (4) ತ್ರಿಕೋನದ ಎಲ್ಲ ಕೋನಗಳ ಅಳತೆಗಳ ಬೇರೀಜು ಇದು ಚೌಕೋನದ ಎಲ್ಲ ಕೋನಗಳ ಅಳತೆಗಳ ಬೇರೀಜಿನ ಅರ್ಧದಷ್ಟು ಇರುತ್ತದೆ.

**SPACE FOR ROUGH WORK**

66. Which is the greatest number?



- (1) 0.91 (2) 0.899  
(3) 0.090 (4) 0.900

67. To help the flood victims, the students of Adarsh Vidyalaya collected Rs. 47,989 and the students of Saraswati Vidyalaya collected Rs. 8,493. From the total amount if Rs. 50,042 are used for domestic items and remaining amount is used for food packets. How much amount is spent on food packets?

- (1) Rs. 6,340 (2) Rs. 6,440  
(3) Rs. 5,440 (4) Rs. 5,340

68. Which of the following statements is correct?

- (1)  $25\% = \frac{25}{1000}$  (2)  $5\% \text{ of } 20 = 4$   
(3)  $50\% \text{ of } 50 = 2.5$  (4)  $0.68 = 68\%$

69. What is the diameter of a circular ground whose radius is 7.6m?

- (1) 3.8m (2) 15.2m  
(3) 14m (4) 7.6m

70. 2.25m cloth is required to stitch a shirt. How much cloth is required to stitch 5 such shirts?

- (1) 10.75m (2) 11.25m  
(3) 8.75m (4) 9.25m

**SPACE FOR ROUGH WORK**

66. ಮುಂದಿನವುಗಳಲ್ಲಿ ಎಲ್ಲಕ್ಕೂ ದೊಡ್ಡ ಸಂಖ್ಯೆ ಯಾವುದು?

0.91      0.899      0.090      0.900

- (1) 0.91      (2) 0.899  
(3) 0.090      (4) 0.900

67. ಆದರ್ಶ ವಿದ್ಯಾಲಯವು 47989 ರೂ ಮತ್ತು ಸರಸ್ವತಿ ವಿದ್ಯಾಲಯವು 8493 ರೂ. ಪೂರಗ್ರಸ್ತರ ಸಹಾಯನಿಧಿಯಾಗಿ ಸಂಗ್ರಹಿಸಿದರು, ಅದರಲ್ಲಿಯ 50042 ರೂ. ಮನೆಯುಪಯೋಗಿ ವಸ್ತುಗಳ ಸಲುವಾಗಿ ಮತ್ತು ಉಳಿದ ಹಣ ತಿಂಡಿ ಪಾಕೀಟುಗಳ ಸಲುವಾಗಿ ಉಪಯೋಗಿಸಿದರು. ಹಾಗಾದರೆ ತಿಂಡಿ ಪಾಕೀಟುಗಳ ಸಲುವಾಗಿ ಎಷ್ಟು ನಿಧಿ ಉಪಯೋಗಿಸಿದರು?

- (1) 6,340 ರೂ      (2) 6,440 ರೂ  
(3) 5,440 ರೂ      (4) 5,340 ರೂ

68. ಕೆಳಗಿನವುಗಳಲ್ಲಿ ಯಾವ ಪರ್ಯಾಯವು ಸರಿಯಾಗಿದೆ?

- (1)  $25\% = \frac{25}{1000}$       (2) 20 ರ ಶೇಕಡಾ 5 = 4  
(3) 50 ರ ಶೇಕಡಾ 50 = 2.5      (4)  $0.68 = 68\%$

69. 7.6 ಮೀ ತ್ರಿಜ್ಯ ಇರುವ ವರ್ತುಳಾಕಾರ ಮೈದಾನದ ವ್ಯಾಸ ಎಷ್ಟು?

- (1) 3.8 ಮೀ      (2) 15.2 ಮೀ  
(3) 14 ಮೀ      (4) 7.6 ಮೀ

70. ಒಂದು ಅಂಗಿ ಹೊಲೆಯುವ ಸಲುವಾಗಿ ಎರಡು ಕಾಲು ಮೀಟರ ಬಟ್ಟೆ ತಗಲುವುದು. ಹಾಗಾದರೆ ಐದು ಅಂಗಿಗಳು ಹೊಲೆಯುವ ಸಲುವಾಗಿ ಒಟ್ಟು ಎಷ್ಟು ಮೀಟರ ಬಟ್ಟೆ ಬೇಕಾಗುವುದು?

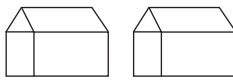
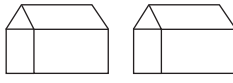
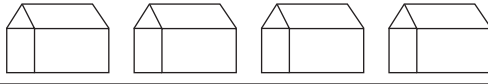
- (1) ಹತ್ತು ಮುಕ್ಕಾಲು      (2) ಹನ್ನೊಂದು ಕಾಲು  
(3) ಎಂಟು ಮುಕ್ಕಾಲು      (4) ಒಂಬತ್ತು ಕಾಲು

**SPACE FOR ROUGH WORK**

71. How much more is the number of divisors of 36, than that of divisors of 24?  
 (1) more by 1 (2) more by 2  
 (3) more by 3 (4) more by 4
72. What will be the consecutive number after seventy five lakhs nine thousand five hundred and thirty five?  
 (1) 759536 (2) 7590535  
 (3) 7509534 (4) 7509536
73. Under “Tree Conservation” programme, Maharashtra Government planted 8000 trees on Amravati-Akola and Amravati-Yavatmal Highway, on both sides of the road. If 40 % trees are planted on Amravati-Akola highway, how many trees are planted on Amravati-Yavatmal highway?  
 (1) 3200 (2) 4200  
 (3) 1600 (4) 4800

**Instruction for Question No. 74 and 75.**

Observe the pictorial information and answer the questions.  
 In a village, people have different coloured Ration Cards.

Colour of Ration Card	No. of houses
White	
Yellow	
Orange	

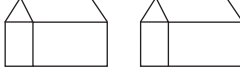
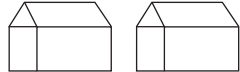

Scale : 1 picture = 100 houses

**SPACE FOR ROUGH WORK**

71. 36 ರ ಒಟ್ಟು ವಿಭಾಜಕ ಸಂಖ್ಯೆಗಳು 24 ರ ಒಟ್ಟು ವಿಭಾಜಕ ಸಂಖ್ಯೆಗಳಿಗಿಂತ ಎಷ್ಟರಿಂದ ಹೆಚ್ಚು ಇವೆ?  
 (1) 1 ರಿಂದ (2) 2 ರಿಂದ  
 (3) 3 ರಿಂದ (4) 4 ರಿಂದ
72. 'ಎಪ್ಪತ್ತೈದು ಲಕ್ಷ ಒಂಬತ್ತು ಸಾವಿರ ಐದೂ ನೂರಾ ಮೂವತ್ತೈದು' ಈ ಸಂಖ್ಯೆಯ ನಂತರ ಬರುವ ಕ್ರಮಿಕ ಸಂಖ್ಯೆ ಕೆಳಗಿನವುಗಳಲ್ಲಿ ಯಾವುದು?  
 (1) 759536 (2) 7590535  
 (3) 7509534 (4) 7509536
73. 'ವೃಕ್ಷ ಸಂವರ್ಧನೆ' ಕಾರ್ಯಕ್ರಮ ಅಂತರ್ಗತ ಮಹಾರಾಷ್ಟ್ರ ಶಾಸನವು 'ಅಮರಾವತಿ-ಅಕೋಲಾ' ಮತ್ತು 'ಅಮರಾವತಿ-ಯವತಮಾಳ' ಈ ಮಹಾಮಾರ್ಗಗಳ ಎರಡು ಬದಿಗೆ ಒಟ್ಟು 8000 ಗಿಡಗಳು ಹಚ್ಚಿದರು ಅವುಗಳ ಪೈಕಿ ಶೇಕಡಾ 40 ಗಿಡಗಳು 'ಅಮರಾವತಿ-ಅಕೋಲಾ' ಈ ಮಹಾಮಾರ್ಗದ ಮೇಲೆ ಹಚ್ಚಿದರು. ಹಾಗಾದರೆ 'ಅಮರಾವತಿ-ಯವತಮಾಳ' ಮಹಾಮಾರ್ಗದ ಮೇಲೆ ಎಷ್ಟು ಗಿಡಗಳು ಹಚ್ಚಿದರು?  
 (1) 3200 (2) 4200  
 (3) 1600 (4) 4800

ಪ್ರ 74 ಮತ್ತು ಪ್ರ 75 ರ ಸಲುವಾಗಿ ಸೂಚನೆ:

ಕೆಳಗಿನ ಚಿತ್ರರೂಪ ಮಾಹಿತಿಯ ಆಧಾರದಿಂದ ಕೆಳಗಿನ ಪ್ರಶ್ನೆಗಳ ಉತ್ತರ ಬರೆಯಿರಿ.  
 ಒಂದು ಹಳ್ಳಿಯಲ್ಲಿ ಕೆಲವು ಮನೆಗಳಲ್ಲಿ ಕೆಳಗೆ ಕೊಟ್ಟ ಬಣ್ಣದ ರೇಶನ್ ಕಾರ್ಡುಗಳಿವೆ.

ರೇಶನ್ ಕಾರ್ಡುಗಳ ಬಣ್ಣ	ಮನೆಗಳ ಸಂಖ್ಯೆ
ಬಿಳಿ	
ಹಳದಿ	
ಕೇಸರಿ	

ಪ್ರಮಾಣ - 1 ಚಿತ್ರ = 100 ಮನೆಗಳು

**SPACE FOR ROUGH WORK**

74. What is the number of houses that have orange colour card?

(1) 800

(2) 400

(3) 200

(4) 600

75. How many times is the number of houses with white card to that of the number of houses with yellow and orange colour card?

(1) 3 times

(2)  $\frac{1}{3}$  times

(3) Double

(4)  $\frac{1}{2}$  times

SPACE FOR ROUGH WORK

74. ಕೆಸರಿ ರೇಶನ್ ಕಾರ್ಡ್ ಹೊಂದಿದ ಮನೆಗಳ ಒಟ್ಟು ಸಂಖ್ಯೆ ಎಷ್ಟು?

(1) 800

(2) 400

(3) 200

(4) 600

75. ಬಿಳಿ ರೇಶನ್ ಕಾರ್ಡ್ ಹೊಂದಿದ ಮನೆಗಳ ಸಂಖ್ಯೆ ಹಳದಿ ಮತ್ತು ಕೆಸರಿ ರೇಶನ್ ಕಾರ್ಡ್ ಹೊಂದಿದ ಮನೆಗಳ ಸಂಖ್ಯೆಗಳ ಎಷ್ಟು ಪಟ್ಟು ಇದೆ?

(1) 3 ಪಟ್ಟು

(2)  $\frac{1}{3}$  ಪಟ್ಟು

(3) ಇಮ್ಮಡಿ

(4)  $\frac{1}{2}$  ಪಟ್ಟು

SPACE FOR ROUGH WORK

SPACE FOR ROUGH WORK